

平成 27 年度石崎石油株式会社 新卒採用試験問題 (時間 80 分)

H26.11.28

受験者氏名 _____

問 1. 次の用語を書きなさい。〈各 2 点〉

- ①画一的な商品を大量生産しコストダウンを図る生産方法から「必要なものを、必要なときに、必要なだけつくる」という考え方に基づいた在庫をできるだけ持たないトヨタ自動車が発案した生産方法。部品納入の日時、数量など必要事項を明記した作業指示書を各工程に表示することからこう呼ばれている。
- ②新しい技術や高度な知識を基に大企業では困難な革新的経営を展開する中小企業の呼び名。日本でも銀行以外からの資金調達方法が広がりを見せており、大学での研究成果を軸にした起業も活発となっている。
- ③理化学研究所小保方晴子氏らのチームが発見したとされた万能細胞の一種。哺乳類の体細胞に外部からの刺激を与えるだけで、未分化で多能性を有することで再生医療の貢献が大きいとされた細胞の名前。

< 解答欄 >

①	②	③
方式	企業	細胞

問 2. 次の () 内のひらがなを漢字に直しなさい〈各 2 点〉

- ①社長が新機軸となる事業についての (みちしるべ) を示した。
- ②すり減ったタイヤでは、安全が著しく (そこ) なわれる。
- ③エンジン性能を維持するためと店員からオイル交換を (すす) められた。
- ④今年の新人は、ちょっとした (いつざい) だ。
- ⑤五月病の新人を先輩が (なぐさ) めた。

< 解答欄 >

①	②	③	④	⑤

問 3. 次の () 内の漢字をひらがなに直しなさい。〈各 1 点〉

- ①リーダー研修のため、札幌に (赴) いた。
- ②同じものでも (雑巾) とタオルでは、受け取るイメージが異なる。
- ③元気が良いとは言え、あまり大声では (甚) だ迷惑な話だ。

④エコカーの増加で、月あたりの給油回数の減少が（顕著）になっている。

⑤部下の遅刻常習犯が、店長に（詰問）されていた。

<解答欄>

①	②	③	④	⑤

問4. A～Eの語句を適切に並べ替えて意味の通る文にしたときの順番をアルファベットで書きなさい。<各1点>

①A：師走の B：街には C：声を聞くと D：鳴り響く E：ジングルベルが

②A：袖を通すときは B：洋服に C：新しい D：わくわくする E：いつも

③A：力だ B：商品開発の C：今後の D：業績向上の E：鍵を握るのは

④A：止めようとは B：一人になっても C：たとえ D：思わない E：研究を

⑤A：過剰な B：経営を C：圧迫している D：設備投資が E：昨年度の

<解答欄>

番号	解答欄			
①	→	→	→	→
②	→	→	→	→
③	→	→	→	→
④	→	→	→	→
⑤	→	→	→	→

問5. 次の問いについて適切なものをアルファベットで選びなさい。<各1点>

①本年、青色LEDの開発でノーベル物理学賞を受賞した日本人の名前を3人選べ。

A：利根川 進 B：佐藤 栄作 C：山中 伸弥 D：中村 修二

E：江崎 玲於奈 F：福井 謙一 G：赤崎 勇 H：天野 浩

I：湯川 秀樹 J：大江 健三郎

②近年、日本各地で台風や竜巻などの異常気象が大きな被害をもたらしています。

そのような原因の一つと考えられるエルニーニョあるいはラニーニャ現象とは何が平年より偏っていることを指しているか。

A：オゾン層の厚さ B：気圧 C：磁場の方向 D：地軸の傾き E：海面水温

③販売の際、現金を受領し領収証を発行する場合、当社では消費税を明記しています。

税法上、受領代金がいくら以上のとき、収入印紙の貼付が必要になるか。

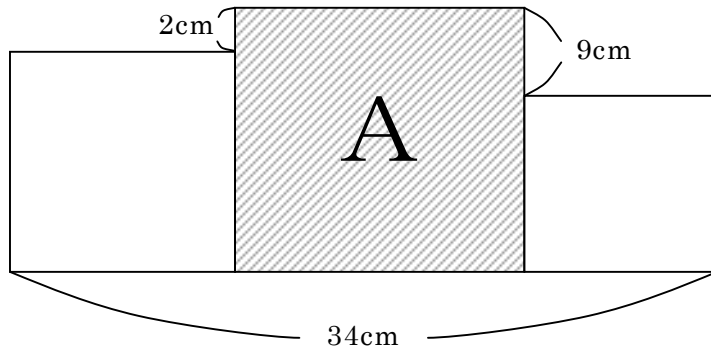
A：30,000円 B：31,500円 C：32,400円 D：50,000円 E：54,000円

<解答欄>

①（合計3点）	②	③

問6. 次の問題に答えなさい。〈各3点〉

① 大きさの異なる正方形が下記のように3つ並んでいます。斜線Aの面積を求めなさい。



② 下記の分数魔法陣は、縦横斜めともその和が等しくなるようになっています。

最も大きな値とその入る場所をアルファベットで選べ。〈完全解答で3点〉

$\frac{2}{9}$	$\frac{1}{2}$	A
$\frac{1}{6}$	B	C
$\frac{4}{9}$	D	$\frac{1}{3}$

③ 濃度 20% の食塩水が 100g ある。これを薄めて 10% の食塩水を作りたい。

手元にある濃度 5% の食塩水を何 g 加えるとできるか。

④ 太郎君の家は、駅から 5km 離れている。自宅から時速 30km で駅まで向かって行った太郎君。10 分後に兄が忘れ物を届けに向かったが、時速何 km 以上で追いつくことができるか。

⑤ 12,000 円で仕入れた商品を販売価格の 25% が利益になるよう値付けしたが、売れなかったので、1 割引で販売した。販売した価格はいくらか。

< 解答欄 >

番号	解答欄			
①	cm^2			
②	場所		値	③
④				
⑤	円			

問7. 次の記述の内、正しいものには○、間違っていれば×をつけなさい。〈各1点〉

- ①クレジットカード払いで領収証を発行する場合、「クレジットカード利用」を明記すれば、金額がいくらであっても収入印紙を貼付する必要がない。
- ②pHとは水素イオン濃度指数のことで、 $pH < 7$ のときアルカリ性を示す。
- ③満月が地球の影に入り、その全部が隠れる現象を皆既月食と呼ぶが、澄んだ空では、月は真っ暗にはならず暗い赤銅色に見える。
- ④衆議院議員は25歳以上で立候補することができるが、参議院議員は30歳以上でないと立候補できない。
- ⑤和製英語とは日本で作られた英語であり、英語圏でもそのほとんどが意味の通じる言葉をいう。

<解答欄>

①	②	③	④	⑤

問8. 次の問いに答えなさい。〈各2点〉

- ①今年のプロ野球日本一を決める「日本（選手権）シリーズ」で優勝したチーム名をアルファベットで選べ。
A：福岡ソフトバンクホークス B：広島東洋カープ C：読売ジャイアンツ
D：オリックスバファローズ E：北海道日本ハムファイターズ
F：阪神タイガース
- ②国際テニス連盟が定めた4大大会の一つ「全米オープン」で今年日本人初の決勝進出を決め、続くマレーシア・オープン・クアラルンプールや楽天ジャパン・オープン・テニスで優勝、10月6日付の世界ランキングで6位となったテニスプレイヤーの名前は？
- ③ズバリ、理系の女子学生や女性研究者や理系の進路を目指す女子中高生などを意味する俗語とは？
- ④今年も着ぐるみゆるキャラの代表格「ふなっしー」。千葉県船橋市非公認のご当地キャラクターとして有名だが、何の妖精という設定になっているか？
- ⑤今年10月14日に引退を表明。関西大学スケート部出身、2010年バンクーバーオリンピックで日本人初のオリンピックメダル（銅メダル）を獲得した元男子フィギュアスケート選手の名前は？
- ⑥日本代表という呼称から男子のイメージを払拭するため、日本サッカー協会（JFA）の女性スタッフの提案で決定した愛称。2011年のFIFA女子ワールドカップ優勝で、広く知られるようになった「サッカー日本女子代表」の呼び名とは。

<解答欄>

①	②	③
④	⑤	⑥

問9. 下記の図は企業活動の状態を示す財務諸表の一部を簡素化し、図式化したものである。ア～エに入る最も適切な用語をアルファベットで選べ。〈各2点〉

貸借対照表	
ア	負債
	イ

損益計算書
ウ
費用
エ

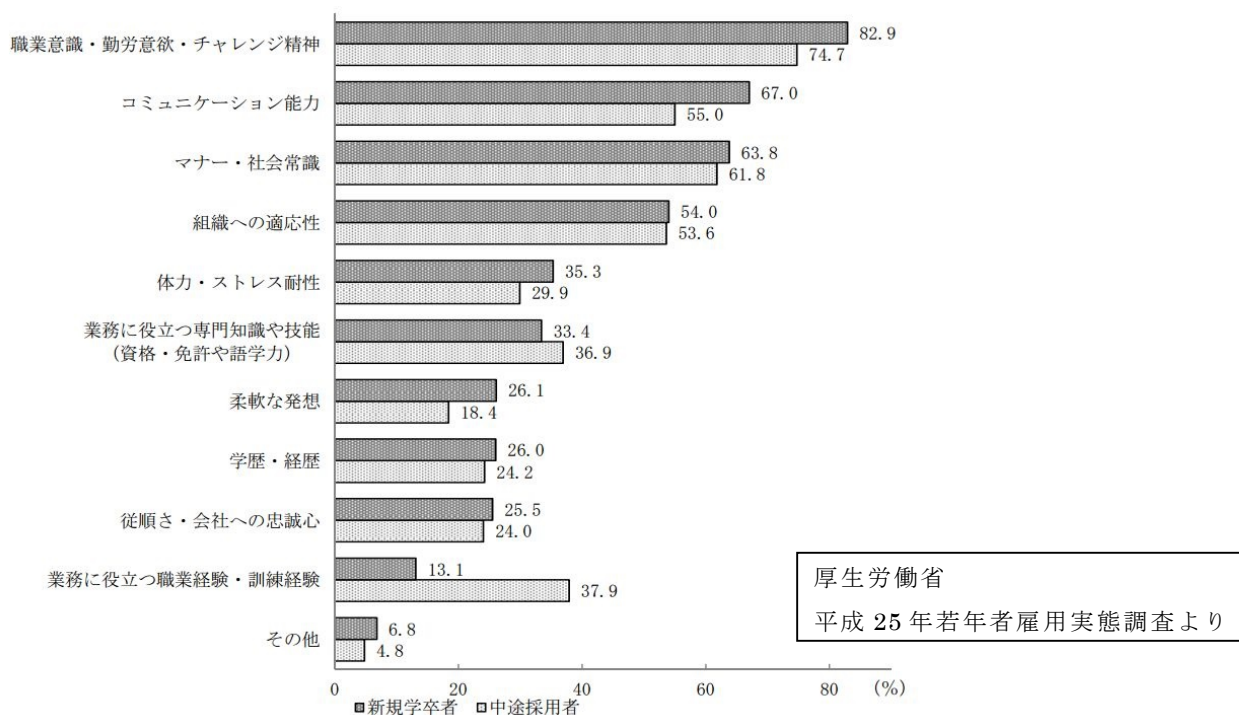
A : 販売費	B : 現金	C : 当期純利益	D : 利息	E : 売上原価
F : 経常利益	G : 借入金	H : 資産	I : 剰余金	J : 資本
				K : 売上高

<解答欄>

ア	イ	ウ	エ

問10. 下記の図は、満15～34歳の若年労働者を雇用した事業所に対するアンケート結果をグラフにしたものである。このグラフの説明として最も適切な語句に○をつけなさい。〈各1点〉

正社員の採用選考にあたり重視した点別事業所割合（複数回答）
 （新規学卒者、中途採用者それぞれで若年正社員を採用選考した事業所=100）



事業主が正社員の採用で最も重視しているのは「ア」であり、学力や「イ」については、それほど選考比重が高くないことがわかる。

「ア」の他、コミュニケーション能力や組織への適応性のポイントがいずれも「ウ」を超えており、社内外の積極性や「エ」を人材に求めているようだ。

中途採用者については、即戦力を期待しているものと考えられ、「オ」や専門知識を重視するポイントが「カ」を「キ」いる。

解答欄	選択肢
ア	共通の趣味、運動部経験、働く意欲、発想力、誠実さ
イ	学歴、アルバイト歴、責任感の強さ、扶養家族の有無、病歴
ウ	平均値、4割、5割、基準値、記録
エ	行動力、安定性、粘り強さ、豊富な知識、協調性
オ	退職理由、職業経験、忠誠心、ストレス耐性、社会常識
カ	事業所規模、常用労働者、新規学卒者、パート・アルバイト、事業主
キ	下回って、上回って、倍増して、牽引して、内包して

問 1 1. 敬語の使い方でも適切なものを選びなさい。〈各 1 点〉

- ① A：母が、部長にお飲みになっていただきたいということで、送って参りました。
B：母が、部長に召し上がっていただきたいということで、送って参りました。
C：お母さんが、部長さんに飲んでくださいということで、送ってきました。
- ② A：このカードは各店でご利用できます。
B：このカードは各店でご利用になれます。
C：このカードは各店でご利用いただけます。
- ③ A：先のお客様より順にご乗車ください。
B：この機会にどうぞご入会してください。
C：所定の用紙にご記入ください。
- ④ A：お客様のおっしゃったことは店長にお伝えします。
B：弊社にお越しになる際には、バスが便利です。
C：お客様のおっしゃったことは店長に申し伝えます。
- ⑤ A：パンをもっとお召し上がりになられますか？
B：パンをもっとお召し上がりになりますか？
C：パンをもっと召し上がりますか？

〈解答欄〉

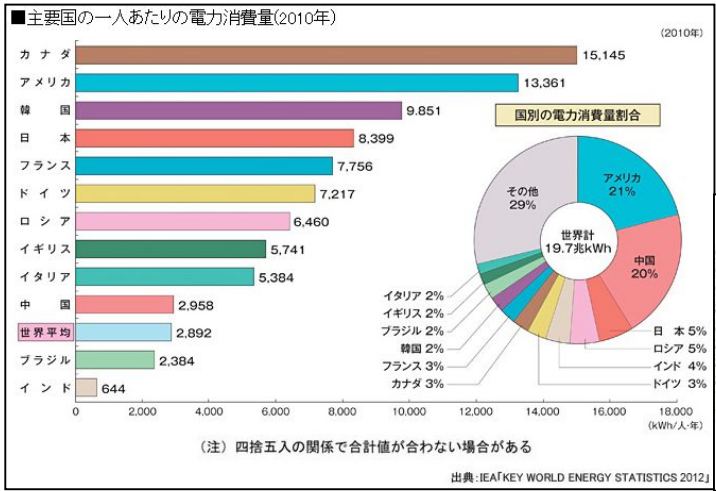
①	②	③	④	⑤

問 1 2. 下記の「」内の言い回しを敬語、謙譲語を使って適切な言い方に変えなさい。
〈各 2 点〉

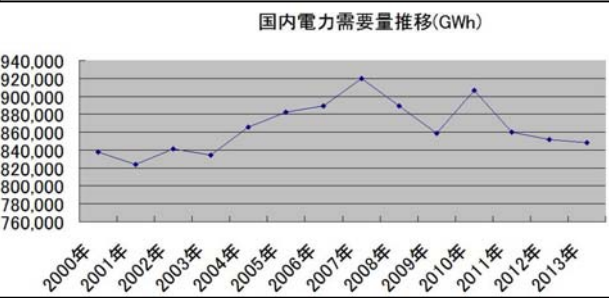
- ① (電話で聞き取りにくかったので)「もう一回名前を言ってもらえる？」
- ② (来訪を受けて)「そっちに座ったら？」
- ③ (お客様宅へ再訪問して)「昨日の資料読んでくれたかい？」
- ④ (約束が決まって)「じゃあ、明日 5 時に行くよ。」
- ⑤ (上司に来客があったが遅れると連絡が・・・)「店長がまた遅れてくるみたいです。」

番号	解答欄
①	
②	
③	
④	
⑤	

問 1 2. 下記の図を分析しながら、400 字程度で自分の考えを述べなさい。 <7 点>



出典：電気事業連合会
電力会社全 10 社合計公表値を元に作成



< 解答欄 >

1	2	3	4	5	6	7	8	9	10	11	12	13	14	15	16	17	18	19	20	21	22	23	24	25	26	27	28	29	30	31	32	33	34	35	36	37	38	39	40	41	42	43	44	45	46	47	48	49	50	51	52	53	54	55	56	57	58	59	60
---	---	---	---	---	---	---	---	---	----	----	----	----	----	----	----	----	----	----	----	----	----	----	----	----	----	----	----	----	----	----	----	----	----	----	----	----	----	----	----	----	----	----	----	----	----	----	----	----	----	----	----	----	----	----	----	----	----	----	----